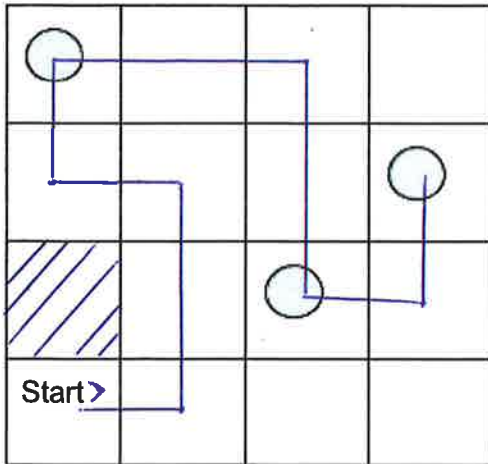


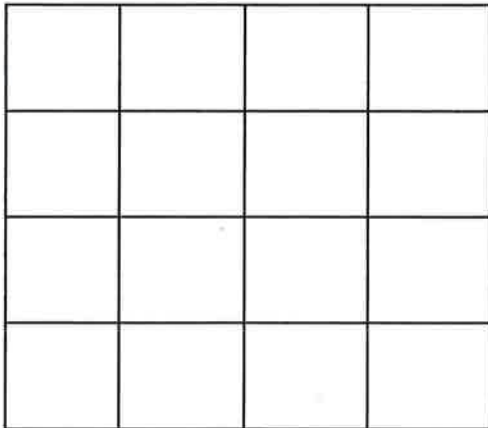
# När eleven är klar med utmaning 4.

Exempel



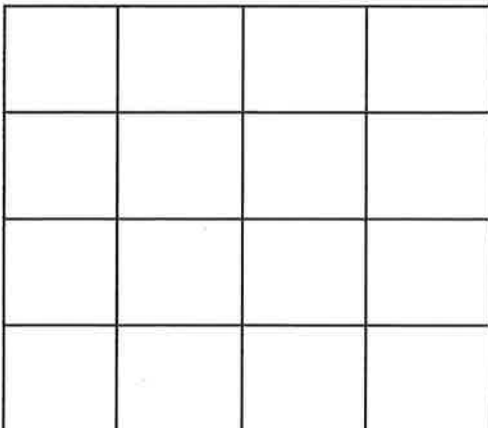
Hur många steg gick er Bee-bot? Svar: \_\_\_\_\_

Rita ut **start**, **planeterna** och **hinder**. Samt **vägen** som bee-boten gick.



Kan ni komma på en snabbare väg för ert bi?

Rita ut **start**, **planeterna** och **hinder**. Fundera och rita ut den **snabbaste vägen** för er bee-bot. Programmera Bee-boten och testa vägen på er karta!



Hur stor var var differensen (skillnaden) i steg? Svar: \_\_\_\_\_

Varje steg är 15cm. Hur många cm har Bee-boten gått? Svar: \_\_\_\_\_

Bra jobbat hälsar Mattias Isberg